

### 3 PROMETNA SIGNALIZACIJA, POLICIST 2.DEL

#### 3.3 PROMETNI ZNAKI ZA OBVESTILA IN DOPOLNILNE TABLE

#### 3.4 OZNAČBE NA VOZIŠČU IN DRUGIH PROMETNIH POVRŠINAH

#### 3.5 SVETLOBNI PROMETNI ZNAKI, TROZNAK, PROMETNA OPREMA

#### 3.6 ZNAKI POLICISTOV, REDARSKA IN ŠOLSKA PROMETNA SLUŽBA

Približujete se prikazanemu modremu prometnem znaku. Kaj označuje? (📖 Poglej lekcijo)



- Smer, v katero je prepovedano zapeljati.
- Zoženo vozišče z desne strani.
- Prednostno cesto z desne strani.
- Da je na desni strani slepa cesta. ✓

Pravilen odgovor je: Da je na desni strani slepa cesta.

Kaj označuje prikazan prometni znak? (📖 Poglej lekcijo)



**Kungota**

- Bližino razpršene poselitve, ob kateri je speljana cesta. ✓
- Ime glavne ceste v označenem naselju v naselju.
- Naselje, skozi katerega je speljana ta cesta.

Pravilen odgovor je: Bližino razpršene poselitve, ob kateri je speljana cesta.

Označite pravilne trditve: (📖 Poglej lekcijo)



**Kungota**

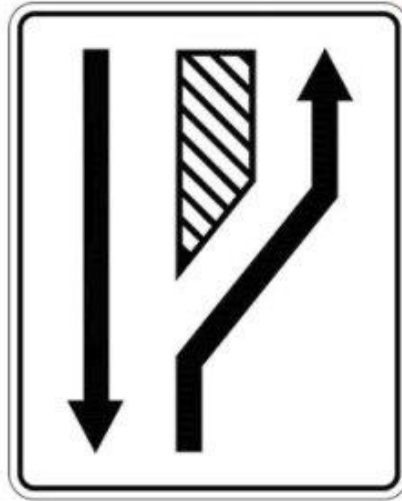
Pravilna sta dva odgovora ali več:

- Znak me obvešča o neposredni bližini razpršene poselitve, ob kateri je speljana cesta. ✓
- Za znakom je omejitev hitrosti največ 50 km/h.
- Za znakom se ne uporabljajo pravila vožnje v naselju. ✓
- Znak dovoljuje vožnjo samo motornim vozilom.

Pravilen odgovor je: Znak me obvešča o neposredni bližini razpršene poselitve, ob kateri je speljana cesta., Za znakom se ne uporabljajo pravila vožnje v naselju.


Označite pravilno trditev. Prometni znak nas obvešča o tem: (📖 Poglej lekcijo)

eCPP.si



- Kako poteka prednostna cesta.
- Kako se je potrebno umakniti polju za usmerjanje prometa.
- Kam morajo zapeljati počasna vozila.
- Kako poteka preusmeritev prometa na drugo cesto. ✓

Pravilen odgovor je: Kako poteka preusmeritev prometa na drugo cesto.

Kaj označuje prikazan prometni znak? (  Poglej lekcijo)



- Radijsko postajo in njeno frekvenco, kjer je mogoče poslušati le narodno zabavno glasbo.
- Bližino mesta, kjer se nahaja sedež navedene radijske hiše.
- Radijsko postajo in njeno frekvenco, kjer je mogoče poslušati prometne informacije. ✓

Pravilen odgovor je: Radijsko postajo in njeno frekvenco, kjer je mogoče poslušati prometne informacije.

Pripeljali ste do prikazanega prometnega znaka. Kaj napoveduje? (📖 Poglej lekcijo)

eCPP.si




- Potrditev pravilne smeri vožnje do krajev, napisanih na znaku.
- Izvoze s hitre ceste z imeni krajev, kamor vodijo ceste.
- Razvrščanje vozil z imeni krajev. ✓

Pravilen odgovor je: Razvrščanje vozil z imeni krajev.

Kaj napoveduje prikazan prometni znak? (📖 Poglej lekcijo)

eCPP.si



Pravilna sta dva odgovora ali več:

- Smer, kako poteka prednostna cesta.
- Zaključevanje pospeševalnega pasu.
- Usmeritev prometa z enega prometnega pasu na drugi prometni pas. ✓
- Mesto, kjer se ukinja eden od prometnih pasov. ✓

Pravilen odgovor je: Mesto, kjer se ukinja eden od prometnih pasov., Usmeritev prometa z enega prometnega pasu na drugi prometni pas.



Kaj pomeni prikazan beli prometni znak? (📖 Poglej lekcijo)



- Prednost pred vozili, ki vozijo nasproti.
- Razvrščanje vozil pred križiščem.
- Zapiranje levega prometnega pasu. ✓
- Prednost vozil, ki vozijo nasproti.

Pravilen odgovor je: Zapiranje levega prometnega pasu.




Približujete se prikazanem prometnem znaku. Kako boste ravnali? (📖 Poglej lekcijo)



- Vožnjo nadaljujem z nezmanjšano hitrostjo.
- Ker morajo otroci v glavnem sami poskrbeti za svojo varnost, le za malenkost zmanjšam hitrost.
- Zmanjšam hitrost in vozim posebej pazljivo, saj moram biti na otroke zelo pozoren. ✓

Pravilen odgovor je: Zmanjšam hitrost in vozim posebej pazljivo, saj moram biti na otroke zelo pozoren.

Kateri prometni znak na sliki označuje, da je pred vami slepa cesta? (  Poglej lekcijo)

eCPP.si



**A**


**B**


**C**

**D**

- Prometni znak A. ✓
- Prometni znak B.
- Prometni znak C.
- Prometni znak D.


Pravilen odgovor je: Prometni znak A.

Kolikšna je razdalje od mesta postavitve prikazanega prometnega znaka do mesta, ki ga označuje?  
( Poglej lekcijo)



- 0 m.
- 50 m.
- 150 m.
- 200 m. ✓

Pravilen odgovor je: 200 m.

Zapeljali ste mimo prikazanega prometnega znaka z dopolnilno tablo. Kaj napoveduje? (  Poglej lekcijo)



Pravilna sta dva odgovora ali več:

- Vozila za posipavanje cest, ker obstaja velika nevarnost poledice. ✓
- Oviro na vozišču zaradi asfaltiranja.
- Gradbene delavce in stroje zaradi popravila vozišča.
- Plužne skupine, ki odstranjujejo sneg z vozišča. ✓

Pravilen odgovor je: Plužne skupine, ki odstranjujejo sneg z vozišča., Vozila za posipavanje cest, ker obstaja velika nevarnost poledice.

Zapeljali ste mimo prikazanega prometnega znaka z dopolnilno tablo. Kakšno nevarnost napoveduje? (📖 Poglej lekcijo)



- Močan bočni veter, ki piha z desne strani.
- Neravnine na vozišču.
- Drobno kamenje na vozišču.
- Vozišče, ki je spolzko ob dežju. ✓

Pravilen odgovor je: Vozišče, ki je spolzko ob dežju.

Med sneženjem ste zapeljali mimo prikazanega prometnega znaka z dopolnilno tablo. Kako boste ravnali? (📖 Poglej lekcijo)



- Vožnjo nadaljujem zelo previdno. ✓
- Ustavim in namestim snežne verige, saj to zahteva prometni znak.
- Ustavim, saj je ob sneženju prepovedano nadaljevati vožnjo mimo tega prometnega znaka.
- Ob tem prometnem znaku močno zavrem, nato pa pospešim, da ne oviram prometa.

Pravilen odgovor je: Vožnjo nadaljujem zelo previdno.



Zapeljali ste mimo prikazanega prometnega znaka z dopolnilno tablo. Kakšno nevarnost napoveduje? (📖 Poglej lekcijo)



- Neravno vozišče – prevoj.
- Kolesnice na vozišču. ✓
- Več vzponov in spustov, ki si sledijo.
- Grbine (fizične ovire), ki umirjajo promet.

Pravilen odgovor je: Kolesnice na vozišču.



Kolikšna je razdalja (izven naselja) od mesta, kjer je postavljen prikazan prometni znak z dopolnilno tablo, do mesta, ki ga napoveduje? (📖 Poglej lekcijo)



- 0 m.
- 5 m.
- 150-250 m.
- 600 m. ✓


Pravilen odgovor je: 600 m.

Kolikšna je razdalja (izven naselja) od mesta, kjer je postavljen prikazan prometni znak z dopolnilno tablo, do mesta, ki ga napoveduje? (📖 Poglej lekcijo)



- 0 m.
- 50 m.
- 150-250 m.
- 400 m. ✓

Pravilen odgovor je: 400 m.

Kolikšna je razdalja (izven naselja) od mesta, kjer je postavljen prikazan prometni znak z dopolnilno tablo, do mesta, ki ga napoveduje? (  Poglej lekcijo)



- 0 m.
- 3-10 m.
- 150-250 m. ✓
- 700 m.


Pravilen odgovor je: 150-250 m.

Kolikšna je razdalja (izven naselja) od mesta, kjer je postavljen prikazan prometni znak z dopolnilno tablo, do mesta, ki ga napoveduje? (📖 Poglej lekcijo)



- 0 m.
- 80 m.
- 150-250 m. ✓
- 700 m.

Pravilen odgovor je: 150-250 m.

Kolikšna je razdalja (izven naselja) od mesta, kjer je postavljen prikazan prometni znak z dopolnilno tablo, do mesta, ki ga napoveduje? (  Poglej lekcijo)



- 0 m.
- 80 m.
- 150-250 m. ✓
- 900 m.

Pravilen odgovor je: 150-250 m.

Kolikšna je razdalja (izven naselja) od mesta, kjer je postavljen prikazan prometni znak z dopolnilno tablo, do mesta, ki ga napoveduje? (📖 Poglej lekcijo)



- 0 m.
- 80 m.
- 150-250 m.
- 700 m. ✓

Pravilen odgovor je: 700 m.

Kaj vam sporoča prikazani prometni znak z dopolnilno tablo? (📖 Poglej lekcijo)



- Razdaljo do prometnega znaka, pri katerem bom moral ustaviti vozilo ne glede na okoliščine.
- Razdaljo do prometnega znaka, ki označuje semaforizirano križišče.
- Razdaljo do prometnega znaka, ki napoveduje križišče enakovrednih cest.
- Razdaljo do prometnega znaka, pri katerem bom moral pri vstopu na križišče vozilo ustaviti le, če bo to potrebno. ✓

Pravilen odgovor je: Razdaljo do prometnega znaka, pri katerem bom moral pri vstopu na križišče vozilo ustaviti le, če bo to potrebno.



Kako boste ravnali pri prikazanem prometnem znaku z dopolnilno tablo? (📖 Poglej lekcijo)



eCPP.si

Pravilna sta dva odgovora ali več:

- Ustavim samo v primeru, če je na prednostni cesti kakšno vozilo.
- Ker se križišču približujem po neprednostni cesti bom bolj pozoren. ✓
- Brez ustavitve, a previdno, zapeljem na križišče.
- V vsakem primeru ustavim in pri nadaljnji vožnji ne oviram vozil, ki imajo prednost pred menoj. ✓

Pravilen odgovor je: Ker se križišču približujem po neprednostni cesti bom bolj pozoren., V vsakem primeru ustavim in pri nadaljnji vožnji ne oviram vozil, ki imajo prednost pred menoj.

Pripravljali ste do prometnega znaka z dopolnilno tablo. Kaj sporoča? (📖 Poglej lekcijo)



Pravilna sta dva odgovora ali več:

- Pred križiščem moram obvezno ustaviti.
- Ker vozim po prednostni cesti imam na tem križišču prednost pred vsemi udeleženci cestnega prometa.
- Ker vozim po neprednostni cesti, nimam prednosti. ✓
- Prednostna cesta poteka v loku in ne naravnost. ✓


Pravilen odgovor je: Prednostna cesta poteka v loku in ne naravnost., Ker vozim po neprednostni cesti, nimam prednosti.

Približujete se prikazanem prometnem znaku z dopolnilno tablo. Kaj označuje? (📖 Poglej lekcijo)



- Razdaljo do prometnega znaka *Ustavi*, kjer moram obvezno ustaviti. ✓
- Razdaljo do zapore prometa pred križiščem, od koder je nadaljevanje vožnje prepovedano in kjer bo treba polkrožno obrniti.
- Razdaljo do prometnega znaka *križišče/cestni priključek s prednostno cesto*, ki je postavljen pri vstopu na križišče.

Pravilen odgovor je: Razdaljo do prometnega znaka *Ustavi*, kjer moram obvezno ustaviti.

Pripeljali ste do prikazanega prometnega znaka z dopolnilno tablo. Kaj označuje? (  Poglej lekcijo)



- Vozila, ki so napačno parkirana ali ustavljena bodo odpeljana. ✓
- Da je v bližini pooblaščen organizacija, ki opravlja vlečno službo.
- Da je v bližini servisna delavnica.

Pravilen odgovor je: Vozila, ki so napačno parkirana ali ustavljena bodo odpeljana.

Pripravljali ste do prikazanega prometnega znaka. Na kakšni razdalji pred omejitvijo, ki jo označuje, je postavljen? (📖 Poglej lekcijo)



- 0 m. ✓
- 80 m.
- 150-250 m.
- 200 m.


Pravilen odgovor je: 0 m.

Pripeljali ste do prikazanega prometnega znaka. Na kakšni razdalji pred prepovedjo, ki jo napoveduje, je postavljen? (📖 Poglej lekcijo)



- 0 m.
- 80 m.
- 150-250 m.
- 400 m. ✓

Pravilen odgovor je: 400 m.


Razdalja prikazanega prometnega znaka od mesta njegove postavitve do mesta, ki ga označuje, je:  
(  Poglej lekcijo)



- 0 m. ✓
- 25 m.
- 150-250 m.
- 400 m.

Pravilen odgovor je: 0 m.




Kolikšna je razdalja prikazanega prometnega znaka od mesta njegove postavitve do mesta, ki ga označuje? (  Poglej lekcijo)



- 0 m. ✓
- 10 m.
- 150 -250 m.
- 200 m.

Pravilen odgovor je: 0 m.

Kaj sporoča prikazani prometni znak z dopolnilno tablo? (  Poglej lekcijo)




Pravilna sta dva odgovora ali več:

- Cesta, po kateri se bližam križišču, je neprednostna.
- Prednostna cesta na križišču zavija. ✓
- Cesta, po kateri se bližam križišču, je prednostna. ✓
- Na križišču je prepovedano zavijanje na desno in vožnja naravnost.


Pravilen odgovor je: Cesta, po kateri se bližam križišču, je prednostna., Prednostna cesta na križišču zavija.


Označite pomen rumene označbe na vozišču, ki je prikazana na sliki. (📖 Poglej lekcijo)



- Parkiranje dovoljeno na vozišču, tik ob označbi.
- Bližina hitrostne ovire.
- Postajališče mestnega avtobusa.
- Prepovedano parkiranje. ✓

Pravilen odgovor je: Prepovedano parkiranje.

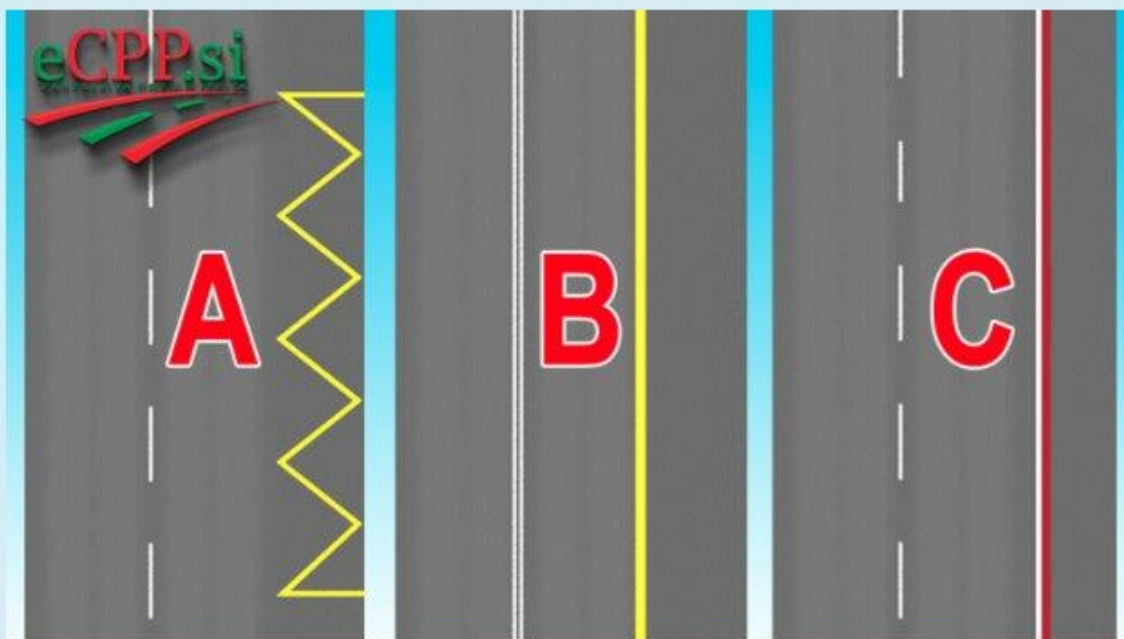
Ali sme, glede na označbe na vozišču, modri osebni avtomobil prehiteti rdečega, kot je prikazano na sliki? (  Poglej lekcijo)



- Ne, ker bi s tem prevozil dvojno črto.
- Ne, ker bi s tem zapeljal čez neprekinjeno ločilno črto.
- Da, ker je vožnja čez dvojno kombinirano črto z njegove smeri dovoljena. ✓

Pravilen odgovor je: Da, ker je vožnja čez dvojno kombinirano črto z njegove smeri dovoljena.

Prometni pas od kolesarskega pasu ločuje označba: (📖 Poglej lekcijo)



- Na sliki A.
- Na sliki B.
- Na sliki C. ✓

Pravilen odgovor je: Na sliki C.



Približujete se prikazani označbi »ŠOLA« na vozišču. Kako ravnate? (📖 Poglej lekcijo)



- Ustavim. Če so otroci ob vozišču počakam ali pot nadaljujem peš.
- Hitrosti vožnje ne zmanjšam.
- Posebno previdno nadaljujem z vožnjo. ✓
- Hitrost vožnje prilagodim in sem previden samo v zgodnjih jutranjih urah, ko gredo otroci v šolo.

Pravilen odgovor je: Posebno previdno nadaljujem z vožnjo.

Na vozišču je zarisana dvojna neprekinjena črta, kot je prikazano na sliki. Njen pomen je, da ločuje:  
(📖 Poglej lekcijo)



- Dvosmerno vozišče z dvema prometnima pasovoma za vožnjo v isto smer. ✓
- Vse prometne pasove, ki vodijo v isto smer.
- Prometni pas za počasna in hitra vozila.
- Prometni pas, rezerviran za motorna vozila, od kolesarskih pasov oziroma pasov za pešce.

Pravilen odgovor je: Dvosmerno vozišče z dvema prometnima pasovoma za vožnjo v isto smer.



Označite pomen prekinjene ločilne črte na sliki. (📖 Poglej lekcijo)



- Na cesti zunaj naselja označuje levi rob vozišča.
- Ločuje vozišče z enosmernim prometom od vozišča z dvosmernim prometom.
- Na cesti, kjer je dvosmerni promet, ločuje vozišče na dve smerni vozišči. ✓

Pravilen odgovor je: Na cesti, kjer je dvosmerni promet, ločuje vozišče na dve smerni vozišči.

Označite pomen puščic na sliki, zarisanih na vozišču. (📖 Poglej lekcijo)



- Nakazuje smeri, kamor je prepovedano voziti.
- Nakazuje smeri, kjer so ceste slepe in kjer ni možen tekoči promet.
- Voznike obveščajo, kakšen namen imajo prometni pasovi. ✓

Pravilen odgovor je: Voznike obveščajo, kakšen namen imajo prometni pasovi.

Ali smete prehitovati v prikazani situaciji na sliki? (📖 Poglej lekcijo)



- Ne, v nobenem primeru.
- Da, vendar le v primeru, če pri tem ne zapeljem čez ločilno črto.
- Da, saj je vožnja preko dvojne kombinirane črte iz moje smeri dovoljena. ✓

Pravilen odgovor je: Da, saj je vožnja preko dvojne kombinirane črte iz moje smeri dovoljena.

Ali je dovoljeno z vozilom voziti po neprekinjeni ločilni črti na sliki ali preko nje? (📖 Poglej lekcijo)



- Ne. ✓
- Da, vendar le v primeru prehitevanja.
- Da, če s tem nikogar ne oviram in ne ogrožam.

Pravilen odgovor je: Ne.




Vozite po prikazanem prometnem pasu. Kaj pomeni označba na tem prometnem pasu? (📖 Poglej lekcijo)



- Takoj na prvem križišču moram zaviti na levo.
- Zavijanje na levo je prepovedano.
- Šele na drugem križišču smem zaviti na levo. ✓

Pravilen odgovor je: Šele na drugem križišču smem zaviti na levo.

Vozite po prikazanem prometnem pasu, na katerem so zarisane poševne puščice. Kaj to pomeni? (  Poglej lekcijo)



- Zapeljati moram preko avtobusnega postajališča.
- Ker je s tem nadaljnja vožnja prepovedana, moram ustaviti in vklopiti varnostne utripalke.
- Ker se ta prometni pas ukinja, moram zapeljati na levi prometni pas. ✓

Pravilen odgovor je: Ker se ta prometni pas ukinja, moram zapeljati na levi prometni pas.

Kako boste ravnali glede na označbe na vozišču? (📖 Poglej lekcijo)



- Ker se ukinja prometni pas, po katerem vozim, zapeljem na levi prometni pas. ✓
- Polkrožno obrnem, saj je nadaljnja vožnja prepovedana.
- Ustavim, vklopim varnostne utripalke in počakam na navodila upravjalca ceste.

Pravilen odgovor je: Ker se ukinja prometni pas, po katerem vozim, zapeljem na levi prometni pas.



Označite pomen poševno zarisanih črt na levi strani smernega vozišča na sliki. (📖 Poglej lekcijo)



- To je polje na vozišču, kjer je dovoljeno parkirati le osebnim avtomobilom.
- To je polje, kjer so zarisana mesta za parkiranje enoslednih vozil.
- To je polje za usmerjanje prometa, po katerem ni dovoljeno voziti. ✓
- To je polje, po katerem je dovoljeno prehitevati le počasnejša tovorna vozila in avtobuse.

Pravilen odgovor je: To je polje za usmerjanje prometa, po katerem ni dovoljeno voziti.

Pri nadaljevanju vožnje v prikazanih prometnih razmerah, boste ravnali: (  Poglej lekcijo)



Pravilna sta dva odgovora ali več:

- Upoštevati moram rumene označbe na vozišču. ✓
- Zaradi delovišča na cesti moram voziti zelo previdno in pozorno. ✓
- Upoštevati moram bele označbe na vozišču.

Pravilen odgovor je: Zaradi delovišča na cesti moram voziti zelo previdno in pozorno., Upoštevati moram rumene označbe na vozišču.

V prikazanem primeru upoštevam: (  Poglej lekcijo)



- Označbe na vozišču rumene barve. ✓
- Označbe na vozišču bele barve.

Pravilen odgovor je: Označbe na vozišču rumene barve.

Kaj sporoča označba na vozišču v obliki trikotnika na sliki? (📖 Poglej lekcijo)



- Barvno polepšanje sivo-črnega asfalta.
- Približevanje nevarnemu vzponu.
- Približevanje nevarnemu spustu.
- Sporočilo, da nam bo na križišču odvzeta prednost. ✓

Pravilen odgovor je: Sporočilo, da nam bo na križišču odvzeta prednost.



Kaj označuje ločilna neprekinjena črta rumene barve, kot je prikazano na sliki? (📖 Poglej lekcijo)



- Desni prometni pas je rezerviran za vozila upravljalcev ceste.
- Začasno večje delovišče na cesti.
- Desni prometni pas je namenjen izključno reševalnim, gasilskim in policijskim vozilom.
- Desni prometni pas je rezerviran za vozila javnega prevoza potnikov. ✓

Pravilen odgovor je: Desni prometni pas je rezerviran za vozila javnega prevoza potnikov.

Prometni pas na sliki je z neprekinjeno rumeno črto ločen od drugih prometnih pasov. Ali lahko vozite po njem? (📖 Poglej lekcijo)



- Ne, razen v primeru, če vozim vozilo za javni prevoz potnikov. ✓
- Da, saj je na levem prometnem pasu več vozil.
- Da, v naseljih velja prosta izbira prometnih pasov.

Pravilen odgovor je: Ne, razen v primeru, če vozim vozilo za javni prevoz potnikov.

Vozite po prikazanem desnem prometnem pasu. Kako boste ravnali? (📖 Poglej lekcijo)



- Če ne vozim vozila javnega prevoza potnikov, moram obvezno zaviti na desno. ✓
- Vožnjo lahko nadaljujem naravnost ali na desno, saj lahko izberem kateri koli prometni pas.

Pravilen odgovor je: Če ne vozim vozila javnega prevoza potnikov, moram obvezno zaviti na desno.



Ali je dovoljeno v prikazanem primeru zaviti na desno na prvem križišču? (📖 Poglej lekcijo)



- Da, saj to dovoljujejo označbe na vozišču. ✓
- Ne, saj bi moral zapeljati čez prometni pas, rezerviran za vozila javnega prevoza potnikov.

Pravilen odgovor je: Da, saj to dovoljujejo označbe na vozišču.

Kako boste ravnali, če želite na prvem križišču, ki je prikazano na sliki, zaviti na desno? (📖 Poglej lekcijo)



- Zapeljem preko neprekinjene dvojne ločilne črte in se razvrstim na prometni pas, rezerviran za vozila javnega prevoza potnikov ter zatem zavijem.
- Po prometnem pasu, po katerem vozim, nadaljujem vožnjo do križišča in šele nato zapeljem čez prometni pas, rezerviran za vozila javnega prevoza potnikov in zavijem. ✓

Pravilen odgovor je: Po prometnem pasu, po katerem vozim, nadaljujem vožnjo do križišča in šele nato zapeljem čez prometni pas, rezerviran za vozila javnega prevoza potnikov in zavijem.

Na prikazanem bližnjem križišču se boste za zavijanje na levo, razvrstili: (📖 Poglej lekcijo)



- Vseeno na kateri prometni pas, le da se sme z njega zaviti na levo.
- Na prometni pas, ki ima rumene označbe.
- Na prometni pas, kjer že čaka beli osebni avtomobil. ✓

Pravilen odgovor je: Na prometni pas, kjer že čaka beli osebni avtomobil.



Ob vozišču je rdeče obarvana površina. Kaj označuje? (📖 Poglej lekcijo)



- Pas za kolesarje. ✓
- Pas za vzporedno parkiranje motornih koles, mopedov in koles.
- Pas, kjer je parkiranje časovno omejeno.
- Prometni pas za počasna vozila.


Pravilen odgovor je: Pas za kolesarje.

Voznik, ki vozi pred vami, je zapeljal preko neprekinjene ločilne črte, kot je prikazano. Ali je to dovoljeno? (📖 Poglej lekcijo)



- Da, saj na vidni razdalji iz nasprotne smeri ne pripelje nobeno vozilo.
- Da, saj je neprekinjena ločilna črta samo orientacija za ohranjanje smeri vožnje.
- Da, je saj funkcija neprekinjene ločilne črte le označevanje sredine vozišča.
- Ne, saj neprekinjena ločilna črta prepoveduje vožnjo po njej ali preko nje. ✓

Pravilen odgovor je: Ne, saj neprekinjena ločilna črta prepoveduje vožnjo po njej ali preko nje.

Približujete se križišču. Označbe na vozišču označujejo: (  Poglej lekcijo)



- Prometne pasove in smeri na krožnem križišču z ločenimi prometnimi pasovi, v katere je dovoljena vožnja. ✓
- Zapore smeri prometa zaradi delovišča na cesti.
- Načine možnega obračanja na krožnem križišču.

Pravilen odgovor je: Prometne pasove in smeri na krožnem križišču z ločenimi prometnimi pasovi, v katere je dovoljena vožnja.



Približujete se krožnemu križišču z ločenimi prometnimi pasovi na sliki. Morate biti na kaj še posebej pozorni? (📖 Poglej lekcijo)



- Da izberem čim hitrejšo pot vožnje in s tem zapustitev krožnega križišča.
- Da, na ustrezno razvrščanje pred križiščem, glede na smer vožnje kamor želim peljati. ✓
- Da izberem najkrajšo pot vožnje čez krožno križišče.

Pravilen odgovor je: Da, na ustrezno razvrščanje pred križiščem, glede na smer vožnje kamor želim peljati.



Ob vozišču na desni strani je postavljena prikazana prometna signalizacija. Kaj pomeni? (📖 Poglej lekcijo)



- Vozna površina vozišča je zelo poškodovana.
- Začasno delovišče na cesti.
- Cesta bo v kratkem zaprta.
- Z desne strani je cesta nevarno zožena. ✓

Pravilen odgovor je: Z desne strani je cesta nevarno zožena.

V prometu večkrat opazimo opozorilne svetilke, ki oddajajo svetlobo rumene barve (rumene utripajoče luči). Kaj je njihov temeljni pomen? (📖 Poglej lekcijo)

- Takoj moramo ustaviti vozilo.
- Da se poveča pretočnost ceste, moramo povečati hitrost vožnje.
- Pozornost pri nadaljevanju vožnje moramo povečati. ✓
- Ker je cesta zaprta za ves promet, moramo obrniti vozilo.

Pravilen odgovor je: Pozornost pri nadaljevanju vožnje moramo povečati.

Na drogu je nameščen svetlobni prometni znak, kot je prikazano na sliki. Kakšen je njegov namen?



- Obveščanje o najvišji dovoljeni hitrosti na tem odseku ceste v naselju.
- Spodbujanju voznikov, da upoštevajo omejitve hitrosti. ✓
- Policijskemu nadzoru hitrosti voznikov.

Pravilen odgovor je: Spodbujanju voznikov, da upoštevajo omejitve hitrosti.

Kaj označuje prikazan troznak? (📖 Poglej lekcijo)



- Mesto, kjer moramo vozilo ustaviti in upoštevati navodila policista ter se po njih ravnati. ✓
- Nevarno križišče s prometnim znakom *Ustavi*, na katerem promet ureja policist.
- V bližini je lokalna policijska postaja.

Pravilen odgovor je: Mesto, kjer moramo vozilo ustaviti in upoštevati navodila policista ter se po njih ravnati.

Pripeljali ste do prikazanega troznaka. Kako ravnate? (📖 Poglej lekcijo)

eCPP.si



- Ker se je zgodila prometna nesreča, močno zmanjšam hitrost in sem pozoren na dogajanje na cesti.
- Zmanjšam hitrost, da lahko na znak policista ustavim, če bo potrebno.
- Moram ustaviti. ✓

Pravilen odgovor je: Moram ustaviti.

Pripeljali ste do prikazanega troznaka. Na kaj vas opozarja? (📖 Poglej lekcijo)



- Na bližino delovišča na cesti, ki je lahko nevarno.
- Na bližino zožitve ceste.
- Na bližino prometne nesreče. ✓
- Na bližino križišča, ki je nevarno.

Pravilen odgovor je: Na bližino prometne nesreče.



Pripeljali ste do prikazanega troznaka. Kaj označuje? (📖 Poglej lekcijo)



- Bližino kraja, kjer je prišlo do kaznivega dejanja.
- Bližino mesta, kjer policisti izvajajo nadzor nad prometom. ✓
- Bližino policijske postaje.

Pravilen odgovor je: Bližino mesta, kjer policisti izvajajo nadzor nad prometom.

Pripeljali ste do prikazanega troznaka, ki je postavljen ob desnem robu vozišča. Kakšno je pravilno ravnanje? (📖 Poglej lekcijo)



- Z vklopljenimi varnostnimi utripalkami in z zmanjšano hitrostjo brez ustavitve nadaljujem vožnjo mimo postavljenega troznaka.
- Ob troznaku obvezno ustavim in se ravnam po navodilih policistov.
- Hitrost prilagodim oz. zmanjšam tako, da lahko varno ustavim, če mi policist da znak. ✓

Pravilen odgovor je: Hitrost prilagodim oz. zmanjšam tako, da lahko varno ustavim, če mi policist da znak.

Čemu so namenjeni cestni smerniki na sliki? (📖 Poglej lekcijo)



Pravilna sta dva odgovora ali več:

- Za označevanje mesta, do koder sega lastništvo upravljavca ceste.
- Za označevanje bližine roba vozišča. ✓
- Za nakazovanje poteka ceste. ✓
- Za nakazovanje konca neutrjene bankine ob cesti.

Pravilen odgovor je: Za označevanje bližine roba vozišča., Za nakazovanje poteka ceste.

Kaj je prikazana prometna oprema rdeče in bele barve? (📖 Poglej lekcijo)



- Plastična ograja, ki opozarja voznike, da se bližajo nevarnemu odseku ceste.
- Začasne ločilne ograje, namenjene za fizično ločevanje prometnih površin. ✓
- Plastična ograja, ki varuje policiste, ko urejajo promet na križišču.

Pravilen odgovor je: Začasne ločilne ograje, namenjene za fizično ločevanje prometnih površin.



Pripeljali ste do prikazanega rdeče rumeno pobarvanega količka. Kaj pomeni? (📖 Poglej lekcijo)



- Začasna zamenjava za poškodovani cestni smernik.
- Visok cestni smernik, ki je namenjen voznikom večjih vozil.
- Oblikovna popestritev z opozorilom, kje je nameščen cestni smernik.
- Snežni kol, ki v zimskih razmerah označuje bližino roba vozišča. ✓

Pravilen odgovor je: Snežni kol, ki v zimskih razmerah označuje bližino roba vozišča.



Čemu je namenjeno prometno ogledalo? (📖 Poglej lekcijo)



- Da lahko pešci, predvsem starejši, natančno opazujejo promet na in ob cesti.
- Da lahko opazujem ves promet na cesti, na katero se bom vključil. ✓
- Da lahko opazujem promet za vozilom.

Pravilen odgovor je: Da lahko opazujem ves promet na cesti, na katero se bom vključil.

Bližate se prikazani hitrostni oviri. Kako ravnate? (📖 Poglej lekcijo)



- Ker pešcev ni na prehodu, ne zmanjšam hitrosti vožnje.
- Zmanjšam hitrost vožnje in pazljivo ter previdno zapeljem čez oviro. ✓
- Povečam hitrost vožnje, da čim manj čutim udarec na vozilu.

Pravilen odgovor je: Zmanjšam hitrost vožnje in pazljivo ter previdno zapeljem čez oviro.

Pripeljali ste do policista, ki daje znak z loparjem usmerjenim proti vam. Kaj ta znak pomeni? (📖  
Poglej lekcijo)



- Hitrost vožnje moram povečati.
- Hitrost vožnje moram nekoliko znižati.
- Moram ustaviti. ✓

Pravilen odgovor je: Moram ustaviti.



Če ima vozilo s prednostjo prižgane utripajoče modre opozorilne svetilke, to pomeni: (📖 Poglej lekcijo)



- Da morajo vsi vozniki vedno ustaviti vozilo izven vozišča.
- Da se vozniki z vozili umaknejo čim bolj k robu vozišča, oz. če je potrebno, ustavijo ob robu ali zunaj vozišča. ✓
- Da vozniki, ki vozijo v smeri vožnje tega vozila, povečajo hitrost in tako omogočijo neovirano vožnjo.

Pravilen odgovor je: Da se vozniki z vozili umaknejo čim bolj k robu vozišča, oz. če je potrebno, ustavijo ob robu ali zunaj vozišča.

Policijsko vozilo, ki vozi za vami, vas opozarja, da morate obvezno ustaviti. Kateri so ti znaki? (📖 Poglej lekcijo)

Pravilna sta dva odgovora ali več:

- Kratki zvočni znak s sireno. ✓
- Varnostne utripalke.
- Dolgi žarometi.
- Modre opozorilne svetilke. ✓

Pravilen odgovor je: Kratki zvočni znak s sireno., Modre opozorilne svetilke.

Če policist daje zvočne znake, in sicer več zaporednih žvižgov, to pomeni: (  Poglej lekcijo)

- Za vse udeležence cestnega prometa obveza, da morajo ustaviti.
- Da je eden izmed udeležencev ravnal napačno, in sicer proti zahtevi, izraženi z danim znakom, prometnimi znaki ali s prometnimi pravili. ✓
- Da morajo biti vsi udeleženci nanj pozorni, ker bo izrazil neko zahtevo z ustreznim znakom.

Pravilen odgovor je: Da je eden izmed udeležencev ravnal napačno, in sicer proti zahtevi, izraženi z danim znakom, prometnimi znaki ali s prometnimi pravili.

Policist ureja promet. Kako ravnate v tem primeru? (  Poglej lekcijo)



- Moram ustaviti. ✓
- Hitrost vožnje zmanjšam.
- Hitrost vožnje povečam.

Pravilen odgovor je: Moram ustaviti.



Kaj pomeni položaj in znak šolskega prometnika na sliki? (📖 Poglej lekcijo)



- Obvezna ustavitev pred prehodom za pešce. ✓
- Nadaljnja vožnja mora biti bistveno počasnejša zaradi bližine osnovne šole.
- Vožnja mora biti počasnejša, ustavitev pa je obvezna le po potrebi.

Pravilen odgovor je: Obvezna ustavitev pred prehodom za pešce.

Kaj pomeni položaj in znak šolskega prometnika na sliki? (📖 Poglej lekcijo)



- Če ni otrok v bližini prehoda za pešce, lahko osebo pazljivo obvozim.
- V vsakem primeru moram ustaviti pred prehodom za pešce. ✓

Pravilen odgovor je: V vsakem primeru moram ustaviti pred prehodom za pešce.

Kaj pomeni položaj šolskega prometnika na sliki? (📖 Poglej lekcijo)



- Obveza ustavitve pred prehodom za pešce za vsa vozila.
- Odprta smer za voznike. ✓

Pravilen odgovor je: Odprta smer za voznike.