

7 POSEBNE VSEBINE ZA KATEGORIJU B 1del

7.1 VLEKA PRIKLOPNEGA VOZILA

7.2 VARSTVO UDELEŽENCEV PROMETA (prevoz oseb in skupine otrok)

7.3 PRAVILA VARNE USTAVITVE IN PARKIRANJE

Priklopno vozilo, ki ga lahko vlečemo z osebnim avtomobilom, sme biti dolgo največ: (📖 Poglej lekcijo)

- 5 m
- 6 m.
- 8 m.
- 12 m. ✓

Pravilen odgovor je: 12 m.

Na priklopnem vozilu so odsevniki na zadnji strani: (📖 Poglej lekcijo)

- Ovalne oblike.
- Trikotne oblike. ✓
- Štirikotne oblike.

Pravilen odgovor je: Trikotne oblike.

V bivalnem priklopniku je dovoljeno prevažati: (📖 Poglej lekcijo)

- Največ 8+1 oseb.
- V bivalnem priklopniku oseb ni dovoljeno prevažati. ✓
- Največ 5 oseb.

Pravilen odgovor je: V bivalnem priklopniku oseb ni dovoljeno prevažati.

Za udeležbo v cestnem prometu morajo priklopna vozila, katerih največja dovoljena masa presega 750 kg: (📖 Poglej lekcijo)

- Biti označena z registrsko tablico vlečnega vozila, vendar registracija ni potrebna.
- Biti registrirana. ✓
- Imeti predpisano napravo in varnostno opremo, vendar nista potrebna niti oznaka z registrsko tablico niti registracija.

Pravilen odgovor je: Biti registrirana.

Priklopno vozilo, katerega največja dovoljena masa je več kot 750 kg, ki pa ni registrirano, lahko vlečemo z osebnim vozilom: (📖 Poglej lekcijo)

- Takega priklopnega vozila ne smemo vleči. ✓
- Samo, če ima vso predpisano opremo.
- Samo, če je opremljen z registrsko tablico osebnega vozila.

Pravilen odgovor je: Takega priklopnega vozila ne smemo vleči.

Lahki priklopniki morajo za udeležbo v cestnem prometu: (📖 Poglej lekcijo)

- Biti registrirani.
- Imeti ponovljeno registrsko tablico vlečnega vozila. ✓
- Biti brez registrskih tablic, imeti pa le predpisano varnostno opremo.

Pravilen odgovor je: Imeti ponovljeno registrsko tablico vlečnega vozila.

Kaj velja za priklopna vozila z največjo dovoljeno maso, ki presega 750 kg? (📖 Poglej lekcijo)

- Samo v primeru, če gre za službena vozila, morajo biti za udeležbo v cestnem prometu pregledana na tehničnih pregledih.
- Za udeležbo v cestnem prometu ni potrebno, da so pregledana na tehničnih pregledih.
- Morajo biti pregledana na tehničnih pregledih, če želijo voziti v cestnem prometu. ✓

Pravilen odgovor je: Morajo biti pregledana na tehničnih pregledih, če želijo voziti v cestnem prometu.

Katera trditev velja za lahke priklopnike v cestnem prometu? (📖 Poglej lekcijo)

- Tehnični pregled ni potreben, obvezna je le zagotovljena predpisana varnostna oprema.
- Tehnični pregled je obvezen. ✓
- Tehnični pregled ni potreben, potrebna je zgolj ponovljena registrska tablica vlečnega vozila.

Pravilen odgovor je: Tehnični pregled je obvezen.

Kaj pomeni prikazani znak za voznika osebnega avtomobila, ki vleče priklopno vozilo? (📖 Poglej lekcijo)

eCPP.si



- Nič posebnega, saj se prometni znak nanaša zgolj na tovorna vozila.
- Da je nadaljnja vožnja prepovedana. ✓
- Da je nadaljnja vožnja prepovedana, če je priklopnik lahki ali bivalni.
- Da je nadaljnja vožnja prepovedana, v kolikor priklopno vozilo presega širino 1,8 m.

Pravilen odgovor je: Da je nadaljnja vožnja prepovedana.

Kateri izmed prometnih znakov na sliki označuje prepoved nadaljnje vožnje osebnim vozilom, ki vlečejo bivalne priklopnike? (Poglej lekcijo)

eCPP.si



A



B



C

- Slika A.
- Slika B.
- Slika C. ✓

Pravilen odgovor je: Slika C.

O čem voznike, še posebej tiste, ki vlečejo priklopno vozilo, obvešča prometni znak na sliki? (📄)
Poglej lekcijo)



- O ničemer, saj se nanje ta znak ne nanaša.
- Da je vožnja zanje mimo tega prometnega znaka prepovedana.
- Da bodo morali peljati vzvratno ali vozilo obrniti, če bodo zapeljali mimo tega prometnega znaka. ✓

Pravilen odgovor je: Da bodo morali peljati vzvratno ali vozilo obrniti, če bodo zapeljali mimo tega prometnega znaka.


S priklopnim vozilom ste zapeljali mimo tega prometnega znaka. Ste ravnali pravilno? (📖 Poglej lekcijo)

eCPP.si




- Ne, saj je promet prepovedan tudi za skupino vozil. ✓
- Ne, razen v primeru, če vlečem bivalni priklopnik.
- Da, saj je vožnja prepovedana le tovornim vozilom.

Pravilen odgovor je: Ne, saj je promet prepovedan tudi za skupino vozil.

Kakšen je vpliv vleke lahkega priklopnika na pot ustavljanja pri vožnji po klancu navzdol? ( Poglej lekcijo)

- Pot ustavljanja bo krajša.
- Pot ustavljanja bo daljša. ✓
- Ni vpliva.

Pravilen odgovor je: Pot ustavljanja bo daljša.

Kakšen je vpliv vleke lahkega priklopnika na pot ustavljanja pri vožnji po ravnem? ( Poglej lekcijo)

- Slednja bo daljša, ker je zavorna pot daljša. ✓
- Ni vpliva.
- Slednja bo daljša, ker je reakcijski čas daljši.

Pravilen odgovor je: Slednja bo daljša, ker je zavorna pot daljša.

Kakšna varnostna razdalja je primerna v primeru vleke bivalnega priklopnika? (📖 Poglej lekcijo)



- Krajša kot sicer.
- Enaka kot sicer.
- Večja kot sicer. ✓

Pravilen odgovor je: Večja kot sicer.

Kaj od naštetega je pri prehitevanju ključnega pomena, kadar vlečemo priklopno vozilo? (📖 Poglej lekcijo)

- Prestavitev v najvišjo prestavo tik pred pričetkom prehitevanja.
- Hitrost našega vozila ne sme biti bistveno višja od tistega, ki ga prehitevamo.
- Pot prehitevanja je bistveno daljša. ✓

Pravilen odgovor je: Pot prehitevanja je bistveno daljša.

Kadar prehitevamo in obenem vlečemo priklopno vozilo: (📖 Poglej lekcijo)

- Je potrebno zagotoviti večjo bočno razdaljo kot navadno. ✓
- Se je potrebno na izhodiščni prometni pas vrniti hitreje kot navadno.
- Je potrebno pospeševati počasneje kot navadno.

Pravilen odgovor je: Je potrebno zagotoviti večjo bočno razdaljo kot navadno.

Kadar vlečemo priklopno vozilo in prehitevamo, je bistveno: (📖 Poglej lekcijo)

- Da hitrost ni bistveno višja od hitrosti od vozila, ki ga prehitevamo.
- Počasno pospeševanje.
- Upoštevanje dolžine priklopnega vozila pri vračanju na izhodiščni prometni pas. ✓

Pravilen odgovor je: Upoštevanje dolžine priklopnega vozila pri vračanju na izhodiščni prometni pas.

Če nam je zaradi vleke priklopnega vozila onemogočen pogled v vzvratna ogledala, moramo: (📖 Poglej lekcijo)

- Voziti s povečano pozornostjo.
- Namestiti dodatna zunanja vzvratna ogledala na vlečno vozilo. ✓
- Spremembe prometa opazovati na način, da se varno nagnemo skozi odprto okno.

Pravilen odgovor je: Namestiti dodatna zunanja vzvratna ogledala na vlečno vozilo.

Na kakšen način lahko povečamo verjetnost, da opazimo kolesarja, ki je sicer zaradi priklopnega vozila izven našega vidnega polja? (📖 Poglej lekcijo)

- Vozimo na način, da neprestano opazujemo prometno dogajanje za in ob našem vozilu. ✓
- Pomagamo si z zvočnimi opozorilnimi znaki.
- Ves čas zavijanja imamo vklopljene varnostne utripalke.
- Vozimo na način, da ne omogočamo, da nas kdor koli prehit.

Pravilen odgovor je: Vozimo na način, da neprestano opazujemo prometno dogajanje za in ob našem vozilu.

Kadar menjamo prometni pas in obenem vlečemo priklopno vozilo, ki nam zmanjšuje vidno polje, bomo: (📖 Poglej lekcijo)

- Menjavo prometnega pasu izvedli brez utripalk, da ne slepimo drugih udeležencev cestnega prometa.
- Menjavo prometnega pasa izvedli kolikor se da hitro.
- Pred tem dlje časa pozorno spremljali promet in nato v blagem loku izvedli menjavo prometnega pasa. ✓

Pravilen odgovor je: Pred tem dlje časa pozorno spremljali promet in nato v blagem loku izvedli menjavo prometnega pasa.

V vašem osebni avtomobilu prevažate otroka. Kaj od navedenega morate upoštevati? (📖 Poglej lekcijo)

Pravilna sta dva odgovora ali več:

- Vsi posebni varnostni sedeži, ki so namenjeni prevozu otrok, morajo biti homologirani po veljavnih predpisih. ✓
- V primeru, da je odrasla oseba pravilno pripeta z varnostnim pasom, lahko ta drži otroka v naročju.
- Vsi posebni varnostni sedeži, ki so namenjeni prevozu otrok morajo biti primerni otrokovi telesni masi kakor tudi njegovi velikosti. ✓
- Če se otroci lahko dovolj trdno držijo nosilcev naslonjal za glavo lahko stojijo med sprednjima sedežema.

Pravilen odgovor je: Vsi posebni varnostni sedeži, ki so namenjeni prevozu otrok, morajo biti homologirani po veljavnih predpisih., Vsi posebni varnostni sedeži, ki so namenjeni prevozu otrok morajo biti primerni otrokovi telesni masi kakor tudi njegovi velikosti.

V osebni avtomobilu želite prevažati otroka, ki je manjši od 150 cm. Kaj od navedenega morate upoštevati? (📖 Poglej lekcijo)

- Tega otroka mora odrasla oseba trdno držati v naročju.
- Ta otrok lahko stoji med sprednjima sedežema, a se mora trdno držati za nosilce naslonjal za glavo.
- Ta otrok mora ležati v dovolj veliki posteljici, ki je nameščena na zadnjih sedežih.
- Ta otrok mora biti zavarovan s posebnim (njegovi masi in velikosti ustreznim) zadrževalnim sistemom. ✓

Pravilen odgovor je: Ta otrok mora biti zavarovan s posebnim (njegovi masi in velikosti ustreznim) zadrževalnim sistemom.

Kateri otrok mora biti med vožnjo zavarovan s posebnim in namenskim zadrževalnim sistemom: (📖 Poglej lekcijo)

- Le tisti, katerih višina je nižja od 110 cm.
- Vsi otroci, katerih višina je nižja od 150 cm. ✓
- Le tisti, kateri še niso dopolnili starosti šestih let.

Pravilen odgovor je: Vsi otroci, katerih višina je nižja od 150 cm.

Dojenčka želite prevažati, kot je prikazano na sliki. Kaj morate storiti? (📖 Poglej lekcijo)



- Desno roko imam zmeraj pripravljeno, da ga ujamem, če bo treba močneje zavirati.
- Tako ni dovoljeno prevažati otroka, zato otroški sedež namestim na sedež za seboj.
- Pred sedežem, na katerem je otrok, moram izključiti delovanje varnostne zračne blazine. ✓

Pravilen odgovor je: Pred sedežem, na katerem je otrok, moram izključiti delovanje varnostne zračne blazine.

Imate otroka manjšega od 150 cm. Ali je za njegovo varnost pomembno, da ga imate nameščenega v ustreznem varnostnem otroškem sedežu? (📖 Poglej lekcijo)



- Da, to je zelo pomembno. Le takšen način prevoza nudi otroku dovolj veliko raven varnosti. ✓
- Ne, to ni pomembno. Dovolj varno zanj je, če se z rokama močno drži za nosilca naslonjal za glavo, ko stoji med sprednjima sedežema.
- Ne, to ni pomembno. Dovolj varno zanj je, da mirno sedi na sedežu za voznikom, le obstoječi varnostni pas mora biti na otroku pravilno nameščen.
- Ne, to ni pomembno. Dovolj varno zanj je, če ga potnik trdno drži v naročju.

Pravilen odgovor je: Da, to je zelo pomembno. Le takšen način prevoza nudi otroku dovolj veliko raven varnosti.

Označite, na kaj morate biti pozorni, ko boste prevažali otroka, kot je prikazano na sliki: (📖 Poglej lekcijo)



- Da bom imel ves čas vožnje vklopljene varnostne utripalke.
- Da ne bom nikoli vozil hitreje kot 50 km/h.
- Da bom izklopil delovanje varnostne zračne blazine pred otroškim sedežem. ✓
- Da bom imel desno roko zmeraj pripravljeno, da ujamem otroka, če bo treba močno zavirati.

Pravilen odgovor je: Da bom izklopil delovanje varnostne zračne blazine pred otroškim sedežem.

Niste izklopili delovanje varnostne zračne blazine, čeprav dojenčka v ustreznem otroškem sedežu prevažate na sprednjem sedežu. Kakšne so lahko posledice, če se varnostna zračna blazina aktivira: ([📖 Poglej lekcijo](#))



- Poškoduje notranjost potniške kabine.
- Zelo hudo poškoduje otroka. ✓
- Poškoduje sedež na katerem je otrok.
- Poškoduje armaturno ploščo.

Pravilen odgovor je: Zelo hudo poškoduje otroka.

Osební avtomobil želite parkirati na vozišču z dvosmernim prometom. Kje smete parkirati glede na smer vožnje? (📖 Poglej lekcijo)

- Parkirati smem le na desni strani vozišča. ✓
- Parkirati smem na desni in na levi strani vozišča.
- Parkirati smem le na polju za usmerjanje prometa.
- Parkirati smem le na levi strani vozišča.

Pravilen odgovor je: Parkirati smem le na desni strani vozišča.

Na enosmerni cesti želite parkirati motorno vozilo. Kje smete parkirati glede na smer vožnje? (📖 Poglej lekcijo)

- Parkirati smem na desni in na levi strani vozišča. ✓
- Parkirati smem le na levi strani vozišča.
- Parkirati smem le na desni strani vozišča.

Pravilen odgovor je: Parkirati smem na desni in na levi strani vozišča.

Označite trditve, ki nakazujejo, da je motorno vozilo parkirano napačno: (📖 Poglej lekcijo)

Pravilna sta dva odgovora ali več:

- Kadar to vozilo ogroža koga od udeležencev cestnega prometa. ✓
- Kadar mimo vozeča vozila ne morejo doseči bočne razdalje najmanj 1,5 metra.
- Kadar to vozilo ovira pri nadaljevanju vožnje, koga od udeležencev cestnega prometa. ✓

Pravilen odgovor je: Kadar to vozilo ovira pri nadaljevanju vožnje, koga od udeležencev cestnega prometa., Kadar to vozilo ogroža koga od udeležencev cestnega prometa.

Ali je voznik modrega osebnega avtomobila, pri parkiranju, napravil kakšno napako? (📖 Poglej lekcijo)



- Da. Parkiral je preveč na desni strani označenega parkirnega mesta in s tem onemogočil vstop vozniku sosednjega vozila ✓
- Ne. Čeprav je parkiral na desni strani tik ob označbi, je to še vedno znotraj parkirnega mesta.

Pravilen odgovor je: Da. Parkiral je preveč na desni strani označenega parkirnega mesta in s tem onemogočil vstop vozniku sosednjega vozila

Ali je prikazani beli osebni avtomobil na sliki parkiran pravilno? ( Poglej lekcijo)



- Da. Parkiran je v redu, saj je s tem optimalno izkoriščeno parkirno mesto.
- Ne. Parkiran je preblizu modrega osebnega avtomobila. ✓

Pravilen odgovor je: Ne. Parkiran je preblizu modrega osebnega avtomobila.


Parkirati želite na prikazan način. Pozorni morate biti na: (📖 Poglej lekcijo)



Pravilna sta dva odgovora ali več:

- Razdaljo med vozilom in pločnikom, ki ne sme presegati 30 cm. ✓
- Možnost, da s prednjim desnim kolesom zadenem v robnik in s tem lahko poškodujem platišče ali pnevmatiko. ✓
- Obvezen vklop varnostnih utripalk zaradi enosmerne ceste.

Pravilen odgovor je: Razdaljo med vozilom in pločnikom, ki ne sme presegati 30 cm., Možnost, da s prednjim desnim kolesom zadenem v robnik in s tem lahko poškodujem platišče ali pnevmatiko.


Parkirati želite na način, ki je prikazan na sliki. Na kaj morate biti pozorni? ( Poglej lekcijo)



Pravilna sta dva odgovora ali več:

- Voziloma spredaj in zadaj moram pustiti zadosti prostora in jima s tem omogočiti, da lahko parkirno mesto zapustita brez težav. ✓
- Parkirati moram čim bližje robniku (največ 30 cm od njega). ✓
- Platišč in pnevmatik na desni strani vozila ne smem poškodovati ob robniku. ✓
- Z desnima kolesoma moram zapeljati na pločnik.

Pravilen odgovor je: Parkirati moram čim bližje robniku (največ 30 cm od njega)., Platišč in pnevmatik na desni strani vozila ne smem poškodovati ob robniku., Voziloma spredaj in zadaj moram pustiti zadosti prostora in jima s tem omogočiti, da lahko parkirno mesto zapustita brez težav.

Če se s parkirnega mesta vključujemo v promet vzvratno, kot je prikazano na sliki, je to nevarno, ker: ( Poglej lekcijo)



Pravilna sta dva odgovora ali več:

- Imamo omejen pregled nad prometom na vozišču, še posebej, če je ob našem vozilu parkirano večje vozilo, ki nam zastira pogled. ✓
- Z vzvratnim vključevanjem dalj časa oviramo promet. ✓
- Je, zaradi slabše preglednosti, vzvratno vključevanje v promet, zahtevnejše. ✓


Pravilen odgovor je: Imamo omejen pregled nad prometom na vozišču, še posebej, če je ob našem vozilu parkirano večje vozilo, ki nam zastira pogled., Je, zaradi slabše preglednosti, vzvratno vključevanje v promet, zahtevnejše., Z vzvratnim vključevanjem dalj časa oviramo promet.

Na sliki so parkirna mesta zarisana pravokotno na vozišče. V tem primeru bomo parkirali z vzvratno vožnjo, ker bomo tako lažje: (📖 Poglej lekcijo)



- Namestili listič, ki je dokazilo plačane parkirnine.
- Naložili ali razložili prtljago.
- Našli svoje vozilo, še posebej, če smo v neznanem kraju.
- In varneje izvedli vključevanje v promet in zapustili parkirno mesto. ✓

Pravilen odgovor je: In varneje izvedli vključevanje v promet in zapustili parkirno mesto.


Beli osebni avtomobil je parkiran kot prikazano na sliki. To je prepovedano in nevarno, ker: ( Poglej lekcijo)




Pravilna sta dva odgovora ali več:

- Takšnega vključevanja ne pričakujejo drugi udeleženci cestnega prometa. ✓
- Je težje oceniti razdaljo mer robnikom in vozilom.
- Voznik, ko želi zapustiti parkirno mesto, nima zadostne preglednosti. ✓

Pravilen odgovor je: Voznik, ko želi zapustiti parkirno mesto, nima zadostne preglednosti., Takšnega vključevanja ne pričakujejo drugi udeleženci cestnega prometa.

Ali pretijo vozniku srebrnega avtomobila kakšne nevarnosti pri zapuščanju parkirnega mesta? ( Poglej lekcijo)



- Da. Večje vozilo ob njegovem boku mu namreč onemogoča pogled nad dogajanjem na vozišču. 
- Ne. Kdor na takšen način zapušča parkirno mesto, ima prednost in ga morajo druga vozila počakati.


Pravilen odgovor je: Da. Večje vozilo ob njegovem boku mu namreč onemogoča pogled nad dogajanjem na vozišču.

Modri osebni avtomobil z vzvratno vožnjo zapušča parkirno mesto. Ali vozniku pri tem pretijo kakšne nevarnosti? (📖 Poglej lekcijo)



- Da. Ker je ob njem parkirano tovorno vozilo, je situacija za voznika popolnoma nepregledna. ✓
- Ne. Vozilo, ki se s parkirnega mesta vzvratno vključuje v promet, ima prednost.

Pravilen odgovor je: Da. Ker je ob njem parkirano tovorno vozilo, je situacija za voznika popolnoma nepregledna.

Označite pravilne trditve, ki označujejo ravnanje voznika črnega osebnega avtomobila pri parkiranju.
( Poglej lekcijo)



Pravilna sta dva odgovora ali več:

- Parkiral je napačno, saj s svojim vozilom ovira vse udeležence cestnega prometa in predstavlja za njih nevarnost. ✓
- Parkiral je napačno, saj je s svojim vozilom onemogočil vožnjo mimo vsem večjim vozilom, kot so avtobusi, gasilci ... ✓
- Parkiral je pravilno, saj je dovoljeno parkirati osebni avtomobil tudi nekoliko izven zarisanih parkirnih mest.

Pravilen odgovor je: Parkiral je napačno, saj je s svojim vozilom onemogočil vožnjo mimo vsem večjim vozilom, kot so avtobusi, gasilci ..., Parkiral je napačno, saj s svojim vozilom ovira vse udeležence cestnega prometa in predstavlja za njih nevarnost.

Želimo zapeljati v garažno hišo. Na katere elemente vožnje moramo biti še posebej pozorni? (📖
Poglej lekcijo)



Pravilna sta dva odgovora ali več:

- V garažni hiši je drugačna svetloba kot zunaj nje. ✓
- Tudi v garažni hiši moramo upoštevati postavljeno prometno signalizacijo. ✓
- Primerjati moramo višino našega vozila (še posebej, če imamo kakšen tovor na strešnem prtljažniku, na primer kolesa ...) in višino, ki je vpisana na prometnem znaku pred uvozom. ✓
- V garažni hiši moramo voziti le s prižganimi pozicijskimi svetilkami, da ne slepimo drugih.

Pravilen odgovor je: Primerjati moramo višino našega vozila (še posebej, če imamo kakšen tovor na strešnem prtljažniku, na primer kolesa ...) in višino, ki je vpisana na prometnem znaku pred uvozom., V garažni hiši je drugačna svetloba kot zunaj nje., Tudi v garažni hiši moramo upoštevati postavljeno prometno signalizacijo.

V katerem primeru je dovoljena ustavitev in parkiranje na prikazani označbi rumene barve na vozišču? (📖 Poglej lekcijo)



- Le v primeru, če ima vozilo vklopljene varnostne utripalke.
- V nobenem primeru. ✓
- Le v primeru, če je postanek časovno zelo kratek.
- Le v primeru, da s tem ne oviramo drugih udeležencev cestnega prometa.

Pravilen odgovor je: V nobenem primeru.

V katerem primeru je dovoljena ustavitev in parkiranje na prikazani označbi rumene barve na vozišču desno? (📖 Poglej lekcijo)



- Le v primeru nočnega časa.
- Le v primeru, če je postanek časovno zelo kratek.
- V nobenem primeru. ✓
- Le v primeru, če ima vozilo vklopljene varnostne utripalke.

Pravilen odgovor je: V nobenem primeru.

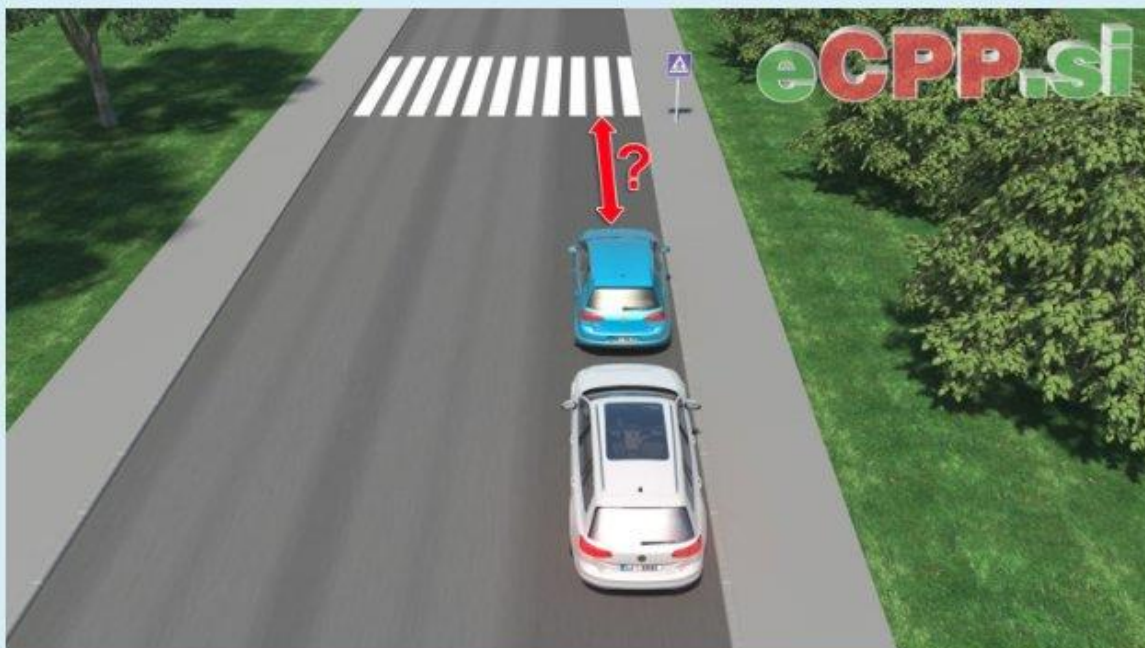
V katerem primeru sta dovoljena ustavitev in parkiranje na prikazanem delu vozišča za prometnim znakom? (📖 Poglej lekcijo)



- Le v primeru, če vklopimo varnostne utripalke dovolj hitro.
- V nobenem primeru. ✓
- Le ob sobotah, nedeljah in tudi praznikih, ki so državni in dela prosti.
- V vsakem primeru, saj je vozišče dovolj široko.

Pravilen odgovor je: V nobenem primeru.

V prikazani situaciji sta prepovedana ustavitev in parkiranje: (📖 Poglej lekcijo)



- 0 m do prehoda za pešce.
- 5 m do prehoda za pešce. ✓
- 15 m do prehoda za pešce.


Pravilen odgovor je: 5 m do prehoda za pešce.

Ustavitev in parkiranje sta prepovedana v razdalji: (📖 Poglej lekcijo)

- 0 m do križišča.
- 10 m do križišča.
- 15 m do križišča. ✓
- 5 m do križišča.

Pravilen odgovor je: 15 m do križišča.


Ustavitev in parkiranje sta prepovedana v razdalji: (📖 Poglej lekcijo)



- 5 m od najbližje železniške tirnice na prehodu ceste čez železniško progo.
- 15 m od najbližje železniške tirnice na prehodu ceste čez železniško progo. ✓
- 80 m od najbližje železniške tirnice na prehodu ceste čez železniško progo.
- 160 m od najbližje železniške tirnice na prehodu ceste čez železniško progo.

Pravilen odgovor je: 15 m od najbližje železniške tirnice na prehodu ceste čez železniško progo.


Je modro vozilo na sliki voznik parkiral pravilno? (📖 Poglej lekcijo)



- Da, saj je vozilo umaknil, tako da ne ovira drugih vozil na vozišču.
- Da, saj je pločnik namenjen tudi parkiranju.
- Da, na teh površinah se lahko parkira največ 30 minut.
- Ne, saj je parkiranje na pločniku prepovedano. ✓

Pravilen odgovor je: Ne, saj je parkiranje na pločniku prepovedano.

Ali je voznik ravnal pravilno, ko je parkiral črn osebni avtomobil le za 5 minut tako, kot je prikazano na sliki? (📖 Poglej lekcijo)



- Da, saj je vozišče dovolj široko in ne ovira drugih vozil.
- Da, saj prepoved parkiranja velja od 10 minut dalje.
- Ne, takšno parkiranje, ob že parkiranih vozilih, ni dovoljeno. ✓

Pravilen odgovor je: Ne, takšno parkiranje, ob že parkiranih vozilih, ni dovoljeno.

Parkiranje osebnega avtomobila na avtobusni postaji: (📖 Poglej lekcijo)



- Je dovoljeno brez kakršnih koli omejitev.
- Ni dovoljeno, lahko pa na tej površini ustavimo vozilo. ✓
- Je dovoljeno za 15 min.
- Je dovoljeno, če na postajališču ni avtobusa.

Pravilen odgovor je: Ni dovoljeno, lahko pa na tej površini ustavimo vozilo.

Označite pravi odgovor. Parkiranje osebnega avtomobila v ovinku na sliki: (📖 Poglej lekcijo)



- Ni dovoljeno, ker bi moral parkirati povsem na vozišču in ne na bankini.
- Ni dovoljeno. ✓
- Je dovoljeno, ker je vozišče še dovolj široko.
- Je dovoljeno zaradi prekinjene ločilne črte.

Pravilen odgovor je: Ni dovoljeno.

Osebni avtomobil na sliki je parkiran napačno. Zakaj je to nevarno? (📖 Poglej lekcijo)



- Ker je parkirano delno na bankini.
- Ker je tvegano za vozila, ki morajo voziti mimo. ✓
- Ker je razdalja med ločilno črto in vozilom premajhna.


Pravilen odgovor je: Ker je tvegano za vozila, ki morajo voziti mimo.

Ali je dovoljeno parkiranje osebnega avtomobila na sliki pod vrhom vzpona? (📖 Poglej lekcijo)



- Je dovoljeno.
- Ni dovoljeno. ✓

Pravilen odgovor je: Ni dovoljeno.

Da lahko voznik parkira, mora biti razdalja med vozilom in neprekinjeno ločilno črto, najmanj: ( Poglej lekcijo)



- 1 m.
- 2 m.
- 3 m. ✓
- 4 m.

Pravilen odgovor je: 3 m.

Ali je, na sliki prikazano vozilo, parkirano pravilno? (📖 Poglej lekcijo)



- Da, saj ne ovira gibanja udeležencev cestnega prometa.
- Ne, saj prekriva prometne znake, ki so pomembni za varen potek prometa. ✓


Pravilen odgovor je: Ne, saj prekriva prometne znake, ki so pomembni za varen potek prometa.

Vozilo je parkirano zunaj naselja, kot je prikazano na sliki. Ali je to dovoljeno? (📖 Poglej lekcijo)



- Ne, saj je to vozišče zunaj naselja, kjer je to prepovedano. ✓
- Da, saj je vozišče dovolj široko.


Pravilen odgovor je: Ne, saj je to vozišče zunaj naselja, kjer je to prepovedano.

Prikazan osebni avtomobil je parkiran v naselju, na smernem vozišču z dvema prometnima pasovoma. Ali je voznik napravil napako? ( Poglej lekcijo)



- Ne, saj v naselju lahko voznik parkira na vseh prometnih površinah.
- Da, saj na takšnih voziščih ni dovoljeno parkiranje. ✓


Pravilen odgovor je: Da, saj na takšnih voziščih ni dovoljeno parkiranje.

Označite ravnanje voznika, ki je parkiral osebni avtomobil na polju za usmerjanje prometa, kot je prikazano na sliki. ( Poglej lekcijo)



- Ravnal je napačno, saj je premalo prostora med osebnim avtomobilom in robom tega polja.
- Ravnal je pravilno, ker je na tem polju parkiranje dovoljeno, vožnja pa ne.
- Ravnal je pravilno, vendar s tem ne sme ovirati in ogrožati drugih udeležencev cestnega prometa.
- Ravnal je napačno, saj na polju za usmerjanje prometa parkiranje ni dovoljeno. ✓

Pravilen odgovor je: Ravnal je napačno, saj na polju za usmerjanje prometa parkiranje ni dovoljeno.

Osebni avtomobil je parkiran pred uvozom v poslovne objekte. Ali je voznik ravnal pravilno? ( Poglej lekcijo)



- Ne. S tem je zaprl pot vsem vozilom, ki željo zapeljati k poslovnim objektom ali jih zapuščajo. ✓
- Da. Edini pogoj je, da mora vklopiti varnostne utripalke.

Pravilen odgovor je: Ne. S tem je zaprl pot vsem vozilom, ki željo zapeljati k poslovnim objektom ali jih zapuščajo.

Voznik je, na parkirnem prostoru rezerviranem za invalide, parkiral osebni avtomobil brez ustrezne parkirne karte. Ali je to dovoljeno? (📖 Poglej lekcijo)



- To je dovoljeno, če vklopi varnostne utripalke.
- To ni dovoljeno. ✓
- To je dovoljeno le v primeru, ko so vsa ostala parkirna mesta zasedena.
- To je dovoljeno, če parkira le za kratek čas.

Pravilen odgovor je: To ni dovoljeno.

Označite pravilne trditve: (📖 Poglej lekcijo)

Pravilna sta dva odgovora ali več:

- Ustavitev in parkiranje sta prepovedana v predorih. ✓
- Ustavitev in parkiranje sta prepovedana na viaduktih oz. mostovih. ✓
- Ustavitev in parkiranje sta prepovedana na počivališčih.
- Ustavitev in parkiranje sta prepovedana na prehodih za pešce. ✓

Pravilen odgovor je: Ustavitev in parkiranje sta prepovedana na prehodih za pešce., Ustavitev in parkiranje sta prepovedana v predorih., Ustavitev in parkiranje sta prepovedana na viaduktih oz. mostovih.

Označite pravilne trditve: (📖 Poglej lekcijo)

Pravilna sta dva odgovora ali več:

- Ustavitev in parkiranje sta prepovedana na prehodih za kolesarje. ✓
- Ustavitev in parkiranje sta prepovedana na prehodih ceste čez železniško progo. ✓
- Ustavitev in parkiranje sta prepovedana na parkiriščih pred trgovskimi centri.
- Ustavitev in parkiranje sta prepovedana na viaduktih oz. mostovih. ✓

Pravilen odgovor je: Ustavitev in parkiranje sta prepovedana na prehodih za kolesarje., Ustavitev in parkiranje sta prepovedana na viaduktih oz. mostovih., Ustavitev in parkiranje sta prepovedana na prehodih ceste čez železniško progo.

Označite pravilne trditve: ( Poglej lekcijo)

Pravilna sta dva odgovora ali več:

- Ustavitev in parkiranje sta prepovedana na označenih parkiriščih.
- Ustavitev in parkiranje sta prepovedana na križiščih. ✓
- Ustavitev in parkiranje sta prepovedana na kolesarskih poteh. ✓
- Ustavitev in parkiranje sta prepovedana na pešpoteh. ✓

Pravilen odgovor je: Ustavitev in parkiranje sta prepovedana na križiščih., Ustavitev in parkiranje sta prepovedana na pešpoteh., Ustavitev in parkiranje sta prepovedana na kolesarskih poteh.

Označite pravilne trditve: ( Poglej lekcijo)

Pravilna sta dva odgovora ali več:

- Ustavitev in parkiranje sta prepovedana na označenih poteh za intervencijska vozila. ✓
- Ustavitev in parkiranje sta prepovedana na kolesarskih pasovih. ✓
- Ustavitev in parkiranje sta prepovedana na nadvozih. ✓
- Ustavitev in parkiranje sta prepovedana zunaj naselja, in sicer na makadamskih površinah ob voziščih.

Pravilen odgovor je: Ustavitev in parkiranje sta prepovedana na nadvozih., Ustavitev in parkiranje sta prepovedana na kolesarskih pasovih., Ustavitev in parkiranje sta prepovedana na označenih poteh za intervencijska vozila.

Označite pravilne trditve: (📖 Poglej lekcijo)

Pravilna sta dva odgovora ali več:

- Ustavitev in parkiranje sta prepovedana na počivališčih.
- Ustavitev in parkiranje sta prepovedana na viaduktih. ✓
- Ustavitev in parkiranje sta prepovedana v podvozih. ✓
- Ustavitev in parkiranje sta prepovedana na zaviralnem pasu. ✓


Pravilen odgovor je: Ustavitev in parkiranje sta prepovedana na viaduktih., Ustavitev in parkiranje sta prepovedana v podvozih., Ustavitev in parkiranje sta prepovedana na zaviralnem pasu.

Označite pravilne trditve: (📖 Poglej lekcijo)

Pravilna sta dva odgovora ali več:

- Ustavitev in parkiranje sta prepovedana na ozkih in nepreglednih delih cest. ✓
- Ustavitev in parkiranje sta prepovedana na pločnikih. ✓
- Ustavitev in parkiranje sta prepovedana na voziščih v naseljih, kjer poteka dvosmerni promet, a ločilne črte na vozišču niso zarisane. ✓
- Ustavitev in parkiranje sta prepovedana na mostovih. ✓


Pravilen odgovor je: Ustavitev in parkiranje sta prepovedana na mostovih., Ustavitev in parkiranje sta prepovedana na pločnikih., Ustavitev in parkiranje sta prepovedana na ozkih in nepreglednih delih cest., Ustavitev in parkiranje sta prepovedana na voziščih v naseljih, kjer poteka dvosmerni promet, a ločilne črte na vozišču niso zarisane.

Prepovedana ustavitev in parkiranje velja na: ( Poglej lekcijo)

Pravilna sta dva odgovora ali več:

- Delu vozišča, ki je nepregledno. ✓
- Večjem parkirišču ob nakupovalnem središču.
- Pospševalnem pasu avtoceste. ✓
- Prometnih površinah, ki so označene za promet intervencijskih vozil. ✓

Pravilen odgovor je: Pospševalnem pasu avtoceste., Delu vozišča, ki je nepregledno., Prometnih površinah, ki so označene za promet intervencijskih vozil.

Vozite po vozišču, kjer poteka promet dvosmerno. Na kateri strani vozišča smete vozilo praviloma parkirati? ( Poglej lekcijo)

- V smeri vožnje, praviloma na desni strani. ✓
- Na vozišču ne. Lahko le na pločniku.
- V smeri vožnje, praviloma na levi strani.
- Velja prosta izbira, zato smem v smeri vožnje parkirati na desni ali na levi strani.

Pravilen odgovor je: V smeri vožnje, praviloma na desni strani.

Prikazano vozišče je v naselju dvosmerno. Kateri osebni avtomobil je parkiran nepravilno? ( Poglej lekcijo)



- Nobeden, saj velja v naselju prosta izbira mesta parkiranja.
- Oba.
- Osebni avtomobil rdeče barve.
- Osebni avtomobil modre barve. ✓

Pravilen odgovor je: Osebni avtomobil modre barve.

Voznik modrega osebnega avtomobila na sliki je parkiral. Ali je ravnal pravilno? (📖 Poglej lekcijo)



- Da, saj je vklopil varnostne utripalke še preden je ustavil.
- Da, saj na parkirnih mestih ni več prostora.
- Ne, takšno parkiranje ni dovoljeno. ✓
- Da, saj lahko vozila zapeljejo mimo preko neprekinjene ločilne črte, če ni vozil iz nasprotne smeri.

Pravilen odgovor je: Ne, takšno parkiranje ni dovoljeno.

Voznik želi parkirati modri osebni avtomobil, kot je prikazano. Ali je to dovoljeno? (📖 Poglej lekcijo)



- Da, vendar lahko parkira le za kratek čas, največ za 15 minut.
- Da, saj lahko vozila zapeljejo mimo vozila in preko neprekinjene ločilne črte, če ni vozil iz nasprotni smeri.
- Ne, ni dovoljeno. ✓
- Da, če pravočasno vklopi varnostne utripalke, saj na parkirnih mestih ni več prostora.

Pravilen odgovor je: Ne, ni dovoljeno.

Parkirali ste osebni avtomobil. Kakšno je vaše pravilno ravnanje pri izstopanju? (📖 Poglej lekcijo)

- Pravočasno vklopim varnostne utripalke in vrata odprem karseda hitro.
- Preden odprem vrata, se s pogledi prepričam, da lahko to storim popolnoma varno ter ne oviram drugih in šele nato izstopim. ✓

Pravilen odgovor je: Preden odprem vrata, se s pogledi prepričam, da lahko to storim popolnoma varno ter ne oviram drugih in šele nato izstopim.

Označite pravilna ravnanja izstopanja iz vozila: (📖 Poglej lekcijo)

- Najprej na široko odprem vrata, nato pogledam in nato hitro izstopim.
- Takoj ko ustavim, čim hitreje, ne da bi pogledal odprem vrata le toliko, da lahko izstopim iz vozila.
- Še pred odpiranjem vrat se s pogledi v celoti prepričam, da ne bom oviral ali ogrožal nobenega udeleženca cestnega prometa in šele nato izstopim. ✓

Pravilen odgovor je: Še pred odpiranjem vrat se s pogledi v celoti prepričam, da ne bom oviral ali ogrožal nobenega udeleženca cestnega prometa in šele nato izstopim.

Vrata na osebnem avtomobilu so se odprla v situaciji, kot je prikazano na sliki. Kako je ravnal voznik? (📖 Poglej lekcijo)



- Pravilno. Kolesar bi moral opraviti mimovožnjo na veliki bočni razdalji, ki vozniku omogoča odpiranje vrat.
- Napačno. Voznik bi se moral s pogledi temeljito prepričati, če je odpiranje vrat varno. ✓
- Pravilno. Kolesar, ki vozi mimo, bi se moral prepričati, če bo voznik odprl vrata.

Pravilen odgovor je: Napačno. Voznik bi se moral s pogledi temeljito prepričati, če je odpiranje vrat varno.

Označite pomen ustavitve vozila: (📖 Poglej lekcijo)

Pravilna sta dva odgovora ali več:

- Je prekinitev vožnje za toliko časa, kolikor je potrebno, da se izvede kratek nakup.
- Je prekinitev vožnje za toliko časa, kolikor je potrebno, da se tovor razloži ali naloži. ✓
- Je prekinitev vožnje za toliko časa, kolikor je potrebno, da se na vozilu odpravi okvara. ✓
- Je prekinitev vožnje za toliko časa, kolikor je potrebno, da vstopijo ali izstopijo potniki. ✓

Pravilen odgovor je: Je prekinitev vožnje za toliko časa, kolikor je potrebno, da vstopijo ali izstopijo potniki., Je prekinitev vožnje za toliko časa, kolikor je potrebno, da se tovor razloži ali naloži., Je prekinitev vožnje za toliko časa, kolikor je potrebno, da se na vozilu odpravi okvara.

Označite, v katerih navedenih primerih je govora o ustavitvi vozila: (📖 Poglej lekcijo)

Pravilna sta dva odgovora ali več:

- Da opravi kratek službeni sestanek.
- Da tovor razložim ali naložim. ✓
- Da potniki vstopijo ali izstopijo. ✓
- Da se na vozilu odpravi okvara. ✓

Pravilen odgovor je: Da se na vozilu odpravi okvara., Da potniki vstopijo ali izstopijo., Da tovor razložim ali naložim.

Ko parkirate vozilo ob robniku, mora biti razdalja med robnikom in vozilom največ: (📖 Poglej lekcijo)

- 20 cm.
- 30 cm. ✓
- 50 cm.
- 80 cm.

Pravilen odgovor je: 30 cm.

Voznik prikazanega osebnega avtomobila je parkiral. Glede na situacijo mora: (📖 Poglej lekcijo)



- Zaradi bližajočega se kolesarja vklopi varnostne utripalke, še preden je končal s parkiranjem.
- Potnika ob njem opozoriti, da naj bo zaradi kolesarjev zelo previden pri odpiranju vrat. ✓
- Kolesarja opozori z zvočnim opozorilnim znakom, da bo njegov potnik odprl vrata in izstopil.
- Hitro izstopi iz avtomobila in ustavi kolesarja, da lahko njegov potnik odpre vrata.

Pravilen odgovor je: Potnika ob njem opozoriti, da naj bo zaradi kolesarjev zelo previden pri odpiranju vrat.

Situacija, ki je prikazana na sliki, ja za kolesarja zelo nevarna. Kaj od naštetega bi moral storiti voznik osebnega avtomobila? (📖 Poglej lekcijo)



Pravilna sta dva odgovora ali več:

- Zapovedati otroku, naj izstopi iz vozila na levi strani, kjer ni kolesarjev.
- Otroku na zadnjem sedežu bi moral z zaporo onemogočiti odpiranje vrat. ✓
- Ustaviti bi moral na vozišču, dovolj daleč od kolesarske steze.
- Opozoriti otroka naj ne odpira vrat, ker se bliža kolesar. ✓

Pravilen odgovor je: Otroku na zadnjem sedežu bi moral z zaporo onemogočiti odpiranje vrat., Opozoriti otroka naj ne odpira vrat, ker se bliža kolesar.

Starš je pripeljal otroka v šolo, ki je preko ceste, na levi strani. Ali je otrok izstopil na pravilni strani iz vozila? (📖 Poglej lekcijo)



- Da. Otrok je pravilno izstopil na strani, kjer ni vozišča. ✓
- Ne. Da bi otrok čim prej prišel do šole, bi lahko izstopil neposredno na vozišče, saj morajo drugi vozniki nanj paziti.

Pravilen odgovor je: Da. Otrok je pravilno izstopil na strani, kjer ni vozišča.

Voznik na sliki na vozišču čaka otroka, da bo ta vstopil v vozilo. Ali je njegovo ravnanje varno za otroka? (📖 Poglej lekcijo)



- Ne. To je od voznika skrajno neodgovorno, za otroka pa izjemno nevarno. ✓
- Da. Namreč, pravočasno je vključil varnostne utripalke, da opozori druge udeležence cestnega prometa.
- Da. Za varno prečkanje ceste je odgovoren vsak udeleženec cestnega prometa sam.

Pravilen odgovor je: Ne. To je od voznika skrajno neodgovorno, za otroka pa izjemno nevarno.

Otrok je izstopil iz osebnega avtomobila neposredno na vozišče. Ali je to zanj nevarno? (📖 Poglej lekcijo)



- Da. To je za otroka izjemno nevarno, od voznika pa skrajno neodgovorno. ✓
- Ne. To ni nevarno, če voznik vključi varnostne utripalke še preden ustavi.
- Ne. To ni nevarno, saj morajo udeleženci cestnega prometa biti posebej pozorni na otroke.

Pravilen odgovor je: Da. To je za otroka izjemno nevarno, od voznika pa skrajno neodgovorno.